

Name: ( \_\_\_\_\_ )

Klasse

Datum: ( \_\_\_\_\_ )

1. Wie haben die Menschen früher Wasser erhalten?

Nenne zwei Möglichkeiten!

( \_\_\_\_\_ )

( \_\_\_\_\_ )

2. Wenn es regnet, fließt das Wasser durch verschiedene Schichten.

Kreuze die Schichten an, die wasserdurchlässig sind!

Kies

Lehm

Gras

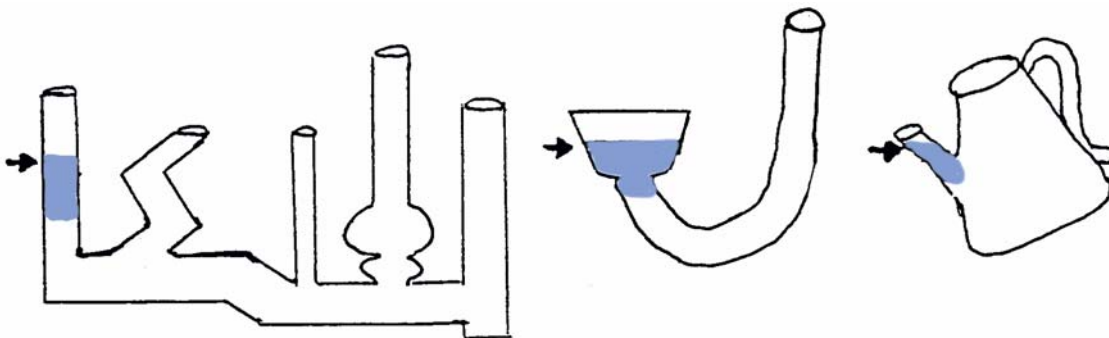
Erde

Sand

3. Ergänze!

Das Wasser, das auf der wasserundurchlässigen Schicht bleibt, nennt man ( \_\_\_\_\_ ).

4. Zeichne in diesen Gefäßen die Wasserstände richtig ein!



5. Was erkennst du bei Aufgabe 4? Ergänze!

In verbundenen Gefäßen steht das Wasser immer

( \_\_\_\_\_ ) hoch.

6. Du willst die Gießkanne mit Wasser füllen. Was geschieht? Warum geschieht das?

( \_\_\_\_\_ )

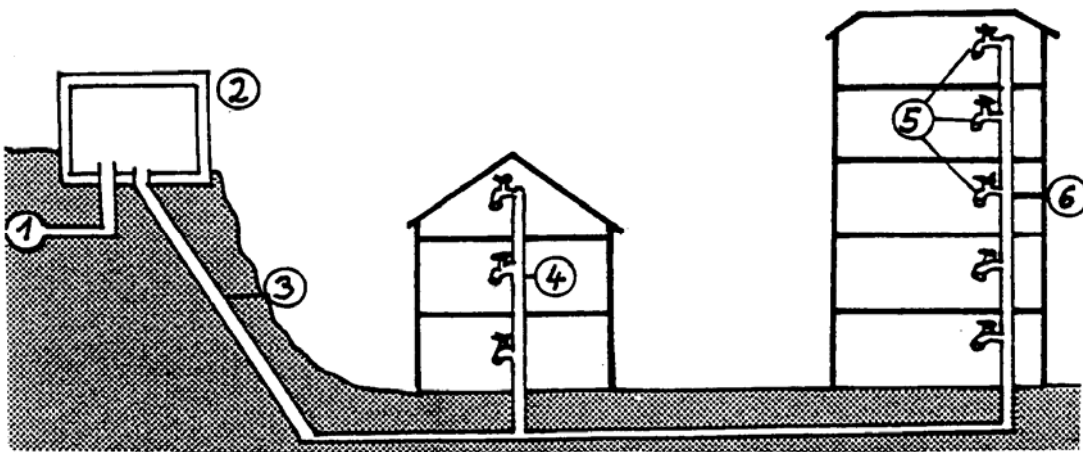


( \_\_\_\_\_ )

( \_\_\_\_\_ )

( \_\_\_\_\_ )

7. Beschrifte die Zeichnung richtig ! Male blau aus, wo Wasser fließt!



1=( \_\_\_\_\_ ) 4=( \_\_\_\_\_ )

2=( \_\_\_\_\_ ) 5=( \_\_\_\_\_ )

3=( \_\_\_\_\_ ) 6=( \_\_\_\_\_ )

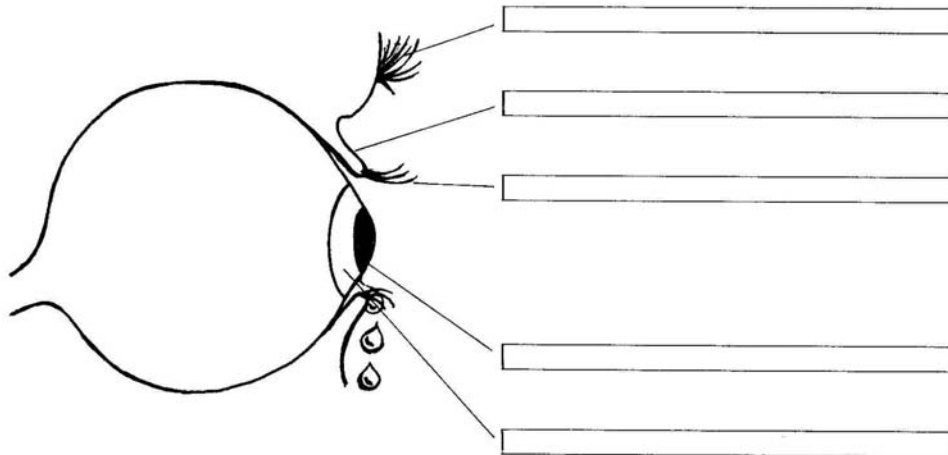
8. Was meinst du zu dieser Aussage?

„Wasser ist kostbarer als Gold.“

( \_\_\_\_\_ )

( \_\_\_\_\_ )

9. Benenne die Teile des Auges!



10. Weißt du Bescheid? Setze passende Wörter ein!

Es verschließt das Auge: ( \_\_\_\_\_ )

Sie schützt das Auge vor Schweiß: ( \_\_\_\_\_ )

Sie schützen das Auge vor Staub: ( \_\_\_\_\_ )

11. Wo sollte man zum Schutz der Augen eine Schutzbrille tragen?

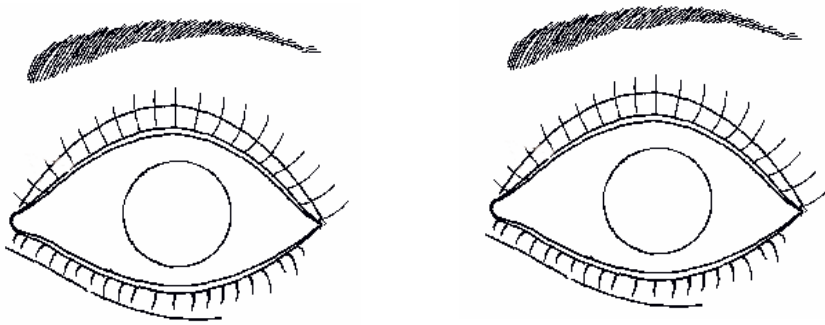
Schreibe zwei Beispiele auf!

( \_\_\_\_\_ )

( \_\_\_\_\_ )

( \_\_\_\_\_ )

12. Male links die Pupille bei wenig Licht und rechts die Pupille bei viel Licht!



13. Kreuze an, was du mit den Augen wahrnehmen kannst!

- |                                       |                                    |                                 |
|---------------------------------------|------------------------------------|---------------------------------|
| <input type="checkbox"/> Geräusche    | <input type="checkbox"/> Größen    | <input type="checkbox"/> Farben |
| <input type="checkbox"/> Bewegungen   | <input type="checkbox"/> Gerüche   | <input type="checkbox"/> Wärme  |
| <input type="checkbox"/> Entfernungen | <input type="checkbox"/> Geschmack |                                 |

14. Ein blindes Kind nimmt ein Stofftier in die Hand und befühlt es genau.

Was kann es nicht erkennen?

( \_\_\_\_\_ )

( \_\_\_\_\_ )

16. Zeichne dein Sehfeld in den Kreis ein!



Von 34 Punkten hast du  erreicht.

Unterschrift: \_\_\_\_\_