

Ordne die Gegenstände den verschiedenen Räumen zu!  
Schreibe die richtige Zahl zu jedem Bild!







Wohnzimmer



Schlafzimmer




Kinderzimmer





Küche





Badezimmer



Vorzimmer






1 Bett 2 Waschbecken 3 Fernseher 4 Schreibtisch  
5 Toilette 6 Herd 7 Kühlschrank 8 Waschmaschine  
9 Badewanne 10 Lehnstuhl 11 Garderobe 12 Esstisch  
13 Sitzecke 14 Kommode