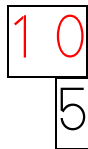
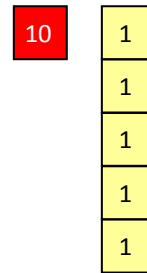


Stelle diese Zahl dar:



Wie heißt diese Zahl?

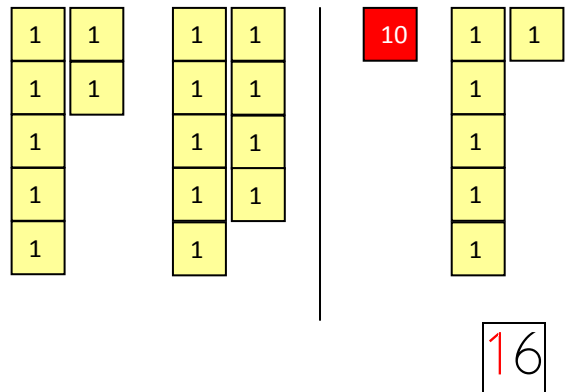


15 fünfzehn

Lege diese Mengen auf:



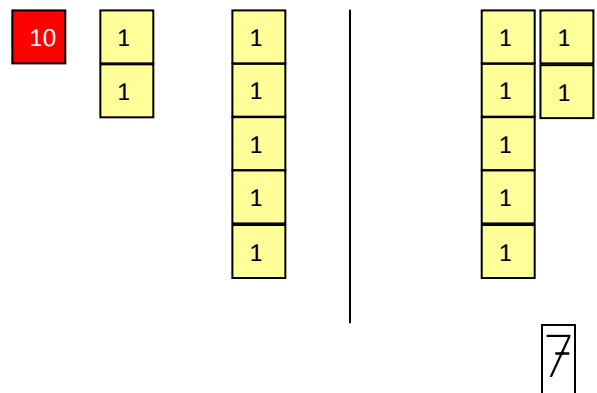
Rechne plus!



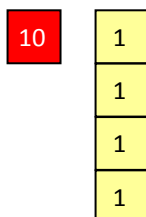
Lege diese Mengen auf:



Rechne minus!



Wie heißt diese Zahl?



14

vierzehn

Stelle diese Zahl dar:

20

Wie heißt diese Zahl?

10
10

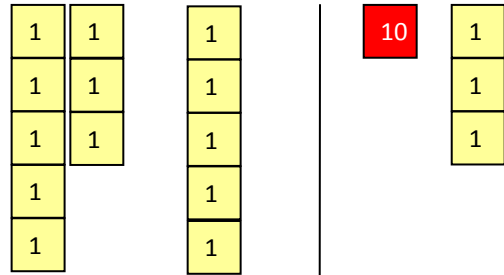
20 zwanzig

Lege diese Mengen auf:

8

5

Rechne plus!



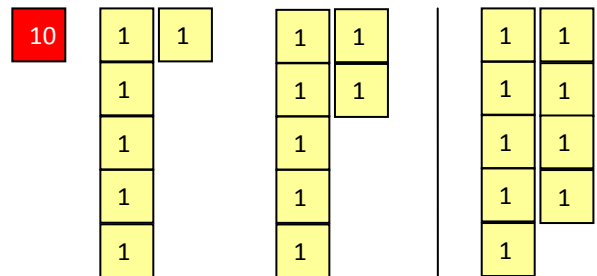
13

Lege diese Mengen auf:

16

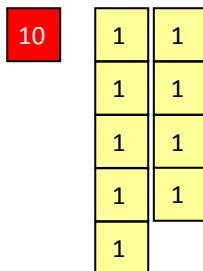
7

Rechne minus!



9

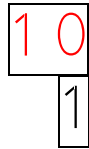
Wie heißt diese Zahl?



19

neunzehn

Stelle diese Zahl dar:



Wie heißt diese Zahl?



11 elf

Lege diese Mengen auf:



Rechne plus!

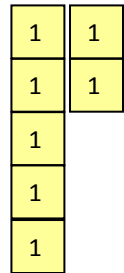


15

Lege diese Mengen auf:

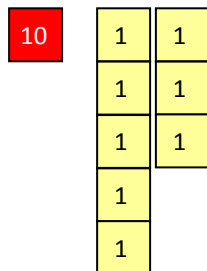


Rechne minus!



17

Wie heißt diese Zahl?



18

achtzehn