

Addition und Subtraktion

Addition

1. Ein Arbeiter wiegt 75 kg. Er trägt mehrere Kisten in ein Haus. Die Kisten wiegen: 30 kg, 45 kg, 21 kg, 38 kg und 52 kg.
 - a. Wie viel wiegen die Kisten gemeinsam?
 - b. Wie viel wiegt der Arbeiter gemeinsam mit den Kisten?
2. Ein Leistungssportler läuft im ersten Monat 465 km, im zweiten Monat 342 km, im dritten Monat 871 km und im vierten Monat 649 km. Wie viele km läuft der Läufer in den vier Monaten insgesamt?
3. Ein Schüler schreibt im 1. Jahr 369 Seiten, im 2. Jahr 491 Seiten und im 3. Jahr 715 Seiten. Wie viele Seiten schreibt der Schüler in den 3 Jahren insgesamt?

Subtraktion

4. Herr Lila verdient 1432 €, seine Frau verdient um 219 € weniger. Wie viel verdient sie?
5. Herr Grün hat auf seinem Konto 784 €. Er hebt davon einmal 152 € ab, danach 35 € und dann noch 317 €. Wie viel Geld hat er noch auf dem Konto?
6. Frau S. mäht ihren Garten. 1032 m² hat sie schon gemäht. 6410 m² hat der Garten. Wie viel fehlt ihr noch?

Gemischt: Addition & Subtraktion

7. Ein Lastwagen liefert Waren aus. Der Wert der einzelnen Waren beträgt: 463 €, 175 €, 643 € und 153 €. Wie viel beträgt der Gesamtwert?
8. Bernd zahlt 42 €, 63 € und 142 € auf sein Sparbuch ein. Nach 3 Monaten möchte er 231 € abheben. Geht sich das aus?
9. Bauer Huber hat 2154 kg Kartoffeln, er verkauft davon 934 kg. Wie viel hat er noch?
10. Eine Firma hat 1343 Angestellte. 20 davon werden gekündigt, dafür werden 54 neue aufgenommen. Wie viele Angestellte hat die Firma jetzt?

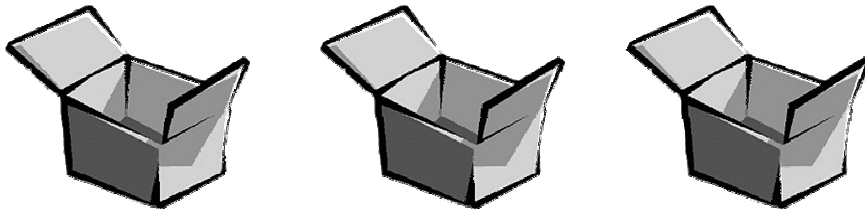
Addition und Subtraktion

Die Addition

$$1100 + 1354 = 2454$$

$$\underline{\quad\quad} + \underline{\quad\quad} = \underline{\quad\quad}$$

Ein Lieferwagen liefert 3 Kisten: 234 kg, 634 kg, 854 kg. Wie viel Gewicht haben sie gemeinsam?



234

634

854


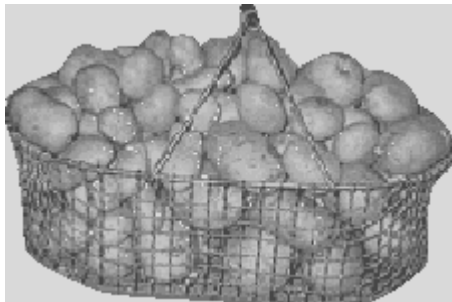
Addition und Subtraktion

Die Subtraktion

$$435 - 345 = 90$$

_____ - _____ = _____

Ein Bauer hat 1200 kg Erdäpfel. Davon verkauft er 345. Wie viel bleiben ihm übrig?



$$\begin{array}{r} 1200 \\ -345 \\ \hline \end{array}$$

Addition und Subtraktion

SELBSTKONTROLLE

Addition und Subtraktion

$\begin{array}{r} 300 \\ -230 \\ \hline \end{array}$	$\begin{array}{r} 140 \\ +120 \\ \hline \end{array}$	$\begin{array}{r} 180 \\ +310 \\ \hline \end{array}$
$\begin{array}{r} 800 \\ -145 \\ \hline \end{array}$	$\begin{array}{r} 234 \\ +432 \\ \hline \end{array}$	$\begin{array}{r} 624 \\ -135 \\ \hline \end{array}$
$\begin{array}{r} 163 \\ +725 \\ \hline \end{array}$	$\begin{array}{r} 512 \\ -317 \\ \hline \end{array}$	$\begin{array}{r} 965 \\ +24 \\ \hline \end{array}$

$\begin{array}{r} 380 \\ -230 \\ \hline \end{array}$	$\begin{array}{r} 160 \\ +150 \\ \hline \end{array}$	$\begin{array}{r} 180 \\ +360 \\ \hline \end{array}$
$\begin{array}{r} 850 \\ -175 \\ \hline \end{array}$	$\begin{array}{r} 264 \\ +492 \\ \hline \end{array}$	$\begin{array}{r} 644 \\ -185 \\ \hline \end{array}$
$\begin{array}{r} 183 \\ +725 \\ \hline \end{array}$	$\begin{array}{r} 542 \\ -397 \\ \hline \end{array}$	$\begin{array}{r} 965 \\ +245 \\ \hline \end{array}$