

Schlussrechnungen

E-M, M-E, Vom Ganzen zum Teil

© Sabine Kainz, 11/2004




© Bilder von Microsoft Clipart Gallery

Kartei 1

Von der Einheit zur Mehrheit

1. 1 Filzschreiber kostet 2 € 30 c. Wieviel kosten 8 Filzschreiber?
2. 1 Federschachtel kostet 8 € 40 c. Wieviel kosten 9 Federschachteln?
3. 1 Füllfeder kostet 23 € 70 c. Wieviel kosten 3 Füllfedern?
4. 1 Radiergummi kostet 90 c. Wieviel kosten 5 Radiergummis?



Kartei 2

Von der Einheit zur Mehrheit

1. 1 Ball kostet 5 € 50 c. Wieviel kosten 6 Bälle?
2. 1 Springseil koste 3 € 40 c. Wie viel kosten 3 Springseile?
3. 1 Teddybär kostet 8 € 20 c. Wieviel kosten 9 Teddybären?
4. 1 Schaufel kostet 70 c. Wieviel kosten 8 Schaufeln?



Kartei 3

Von der Einheit zur Mehrheit

1. 1 l Most kostet 1 € 30 c. Wieviel kosten 7 Most?
2. 1 m Stoff kostet 5 e 70 c. Wieviel kosten 8 m Stoff?
3. 1 kg Bananen kosten 50 c. Wieviel kosten 7 kg Bananen?
4. 1 Krapfen kostet 30 c. Wieviel kosten 10 Krapfen?



Kartei 4

Von der Einheit zur Mehrheit

1. 1 Tüte Eis kostet 90 c. Wieviel kosten 9 Tüten Eis?
2. 1 Maroni kostet 20 c. Wieviel kosten 9 Maroni?
3. 1 Stumpfhose kostet 90 c. Wieviel kosten 4 Strumpfhosen?
4. 1 Suppe kostet 1 € 90 c. Wieviel kosten 20 Suppen?



Kartei 5

Von der Einheit zur Mehrheit

1. 1 Zeitung kostet 75 c. Wieviel kosen 9 Zeitungen?
2. 1 Tafel Schokolade kostet 80 c. Wieviel kosten 6 Tafeln Schokolade?
3. 1 Wurstsemmel kostet 1 € 50 c. Wieviel kosten 6 Wurstsemmeln?
4. 1 Kinokarte kostet 9 € 60 c. Wieviel kosten 2 Kinokarten?



Kartei 6

Von der Mehrheit zur Einheit

1. 4 Autoreifen kosten 328 €. Wieviel kostet 1 Autoreifen?
2. 50 kg Tierfutter kosten 130 €. Wieviel kostet 1 Kilogramm Tierfutter?
3. 7 Eier kosten 3 € 15 c. Wieviel kostet 1 Ei?
4. 20 Paar Socken kosten 80 €. Wieviel kostet ein Paar Socken?



Kartei 7

Von der Mehrheit zur Einheit


1. 4 Handtücher kosten 22 € 80 c. Wieviel kostet 1 Handtuch?
2. 9 Taschentücher kosten 5 € 4 c. Wieviel kostet 1 Taschentuch?
3. 3 Flaschen Fruchtsaft kosten 99 c. Wieviel kostet 1 Flasche Fruchtsaft?
4. 4 Buntstifte kosten 1 € 40 c. Wieviel kostet 1 Buntstift?



Kartei 8

Von der Mehrheit zur Einheit

1. 20 Tennisbälle kosten 32 €. Wieviel kostet 1 Tennisball?
2. 6 Suppen kosten 1 € 80 c. Wieviel kostet 1 Suppe?
3. 7 Packungen Papier kosten 5 € 60 c. Wieviel kostet 1 Packung Papier?
4. 9 Kerzen kosten 17 € 91 c. Wieviel kostet 1 Kerze?



Kartei 9

Von der Mehrheit zur Einheit

1. 5 Taschenrechner kosten 119 € 95 c. Wieviel kostet 1 Taschenrechner?
2. 20 Lippenstifte kosten 50 €. Wieviel kostet 1 Lippenstift?
3. 4 Bleistifte kosten 3 € 56 c. Wieviel kostet 1 Bleistift?
4. 6 Mappen kosten 11 € 94 c. Wieviel kostet 1 Mappe?



Kartei 10

Vom Ganzen zum Teil

1. 1 m Stoff kostet 12 €. Wieviel kostet ein achteil Meter Stoff?
2. 1 kg Obst kostet 4 € 20 c. Wieviel kostet ein halber Kilogramm Obst?
3. 1 l Schnaps kostet 10 € 20 c. Wieviel kostet ein halber Liter Schnaps?
4. 1 kg Kaffee kostet 2 € 80 c. Wieviel kostet ein viertel Kilogramm Kaffee?



Kartei 11

Vom Ganzen zum Teil

1. 1 kg Kartoffel kosten 96 c. Wieviel kostet ein achteil Kilogramm Kartoffel?
2. 1 m Sesselleiste kostet 14 €. Wieviel kostet ein halber Meter Sesselleiste?
3. 1 l Eistee kostet 80 c. Wieviel kostet ein Viertel Liter Eistee?
4. 1 m Eisenrohr kostet 10 €. Wieviel kostet ein Viertel Meter Eisenrohr?



LÖSUNG

Schlussrechnungen

E-M, M-E, Vom Ganzen zum Teil

© Sabine Kainz, 11/2004



© Bilder von Microsoft Clipart Gallery

Kartei 1

Von der Einheit zur Mehrheit

LÖSUNG

1. 18 € 40 c
2. 75 € 60 c
3. 71 € 10 c
4. 4 € 50 c



Kartei 2

Von der Einheit zur Mehrheit

LÖSUNG

1. 33 €
2. 10 € 20 c
3. 73 € 80 c
4. 5 € 60 c



Kartei 3

Von der Einheit zur Mehrheit

LÖSUNG

1. 9 € 10 c
2. 45 € 60 c
3. 3 € 50 c
4. 3 €



Kartei 4

Von der Einheit zur Mehrheit

LÖSUNG

1. 8 € 10 c
2. 1 € 80 c
3. 3 € 60 c
4. 38 €



Kartei 5

Von der Einheit zur Mehrheit

LÖSUNG

1. 6 € 75 c
2. 4 € 80 c
3. 9 €
4. 19 € 20



Kartei 6

Von der Mehrheit zur Einheit

LÖSUNG

1. 82 €
2. 2 € 60 c
3. 45 c
4. 4 €



Kartei 7

Von der Mehrheit zur Einheit

LÖSUNG

1. 5 € 70 c
2. 56 c
3. 33 c
4. 35 c




Kartei 8

Von der Mehrheit zur Einheit

LÖSUNG

1. 1 € 60 c
2. 30 c
3. 80 c
4. 1 € 99 c



Kartei 9

Von der Mehrheit zur Einheit

LÖSUNG

1. 23 € 99 c
2. 2 € 50 c
3. 89 c
4. 71 € 99 c



Kartei 10

Vom Ganzen zum Teil

LÖSUNG

1. 1 € 50 c
2. 2 € 10 c
3. 5 € 10 c
4. 70 c



Kartei 11

Vom Ganzen zum Teil

LÖSUNG

1. 12 c
2. 7 €
3. 20 c
4. 2 € 50 c

