

# Schlussrechnungen

## E-M, M-E, Vom Ganzen zum Teil

© Sabine Kainz, 11/2004



© Bilder von Microsoft Clipart Gallery

### Kartei 1

## Von der Einheit zur Mehrheit

1. 1 Filzmarker kostet 2 € 30 ct.  
Wie viel kosten 8 Filzmarker?
2. 1 Federmäppchen kostet 8 € 40 ct.  
Wie viel kosten 9 Federmäppchen?
3. 1 Füller kostet 23 € 70 ct.  
Wie viel kosten 3 Füller?
4. 1 Radiergummi kostet 90 ct.  
Wie viel kosten 5 Radiergummis?



## Kartei 2

### Von der Einheit zur Mehrheit

1. 1 Ball kostet 5 € 50 ct.  
Wie viel kosten 6 Bälle?
2. 1 Springseil kostet 3 € 40 ct.  
Wie viel kosten 3 Springseile?
3. 1 Teddybär kostet 8 € 20 ct.  
Wie viel kosten 9 Teddybären?
4. 1 Schaufel kostet 70 ct.  
Wie viel kosten 8 Schaufeln?



## Kartei 3

### Von der Einheit zur Mehrheit

1. 1 l Most kostet 1 € 30 ct.  
Wie viel kosten 7 l Most?
2. 1 m Stoff kostet 5 € 70 ct.  
Wie viel kosten 8 m Stoff?
3. 1 kg Bananen kosten 50 ct.  
Wie viel kosten 7 kg Bananen?
4. 1 Krapfen kostet 30 ct.  
Wie viel kosten 10 Krapfen?



## Kartei 4

### Von der Einheit zur Mehrheit

1. 1 Tüte Eis kostet 90 ct.  
Wie viel kosten 9 Tüten Eis?
2. 1 Maroni kostet 20 ct.  
Wie viel kosten 9 Maroni?
3. 1 Stumpfhose kostet 90 ct.  
Wie viel kosten 4 Strumpfhosen?
4. 1 Suppe kostet 1 € 90 ct.  
Wie viel kosten 20 Suppen?



## Kartei 5

### Von der Einheit zur Mehrheit

1. 1 Zeitung kostet 75 ct.  
Wie viel kosten 9 Zeitungen?
2. 1 Tafel Schokolade kostet 80 ct.  
Wie viel kosten 6 Tafeln Schokolade?
3. 1 Wurstsemmel kostet 1 € 50 ct.  
Wie viel kosten 6 Wurstsemmeln?
4. 1 Kinokarte kostet 9 € 60 ct.  
Wie viel kosten 2 Kinokarten?



## Kartei 6

### Von der Mehrheit zur Einheit

1. 4 Autoreifen kosten 328 €.  
Wie viel kostet 1 Autoreifen?
2. 50 kg Tierfutter kosten 130 €.  
Wie viel kostet 1 Kilogramm Tierfutter?
3. 7 Eier kosten 3 € 15 ct.  
Wie viel kostet 1 Ei?
4. 20 Paar Socken kosten 80 €.  
Wie viel kostet ein Paar Socken?



## Kartei 7

### Von der Mehrheit zur Einheit


1. 4 Handtücher kosten 22 € 80 ct.  
Wie viel kostet 1 Handtuch?
2. 9 Servietten kosten 5 € 4 ct.  
Wie viel kostet 1 Serviette?
3. 3 Flaschen Fruchtsaft kosten 99 ct.  
Wie viel kostet 1 Flasche Fruchtsaft?
4. 4 Buntstifte kosten 1 € 40 ct.  
Wie viel kostet 1 Buntstift?



## Kartei 8

### Von der Mehrheit zur Einheit

1. 20 Tennisbälle kosten 32 €.  
Wie viel kostet 1 Tennisball?
2. 6 Suppen kosten 1 € 80 ct.  
Wie viel kostet 1 Suppe?
3. 7 Packungen Papier kosten 5 € 60 ct.  
Wie viel kostet 1 Packung Papier?
4. 9 Kerzen kosten 17 € 91 ct.  
Wie viel kostet 1 Kerze?



## Kartei 9

### Von der Mehrheit zur Einheit

1. 5 Taschenrechner kosten 119 € 95 ct.  
Wie viel kostet 1 Taschenrechner?
2. 20 Lippenstifte kosten 50 €.  
Wie viel kostet 1 Lippenstift?
3. 4 Bleistifte kosten 3 € 56 ct.  
Wie viel kostet 1 Bleistift?
4. 6 Mappen kosten 11 € 94 ct.  
Wie viel kostet 1 Mappe?



## Kartei 10

### Vom Ganzen zum Teil



1. 1 m Stoff kostet 12 €.  
Wie viel kostet ein achtsel Meter Stoff?
2. 1 kg Obst kostet 4 € 20 ct.  
Wie viel kostet ein halbes Kilogramm Obst?
3. 1 l Schnaps kostet 10 € 20 ct.  
Wie viel kostet ein halber Liter Schnaps?
4. 1 kg Kaffee kostet 2 € 80 ct.  
Wie viel kostet ein viertel Kilogramm Kaffee?

## Kartei 11

### Vom Ganzen zum Teil



1. 1 kg Kartoffel kosten 96 ct.  
Wie viel kostet ein achtsel Kilogramm Kartoffel?
2. 1 m Sockelleiste kostet 14 €.  
Wie viel kostet ein halber Meter Sockelleiste?
3. 1 l Eistee kostet 80 ct.  
Wie viel kostet ein Viertel Liter Eistee?
4. 1 m Eisenrohr kostet 10 €.  
Wie viel kostet ein Viertel Meter Eisenrohr?

LÖSUNG

# Schlussrechnungen

E-M, M-E, Vom Ganzen zum Teil

© Sabine Kainz, 11/2004



© Bilder von Microsoft Clipart Gallery

Kartei 1

## Von der Einheit zur Mehrheit

LÖSUNG

1. 18 € 40 ct
2. 75 € 60 ct
3. 71 € 10 ct
4. 4 € 50 ct



## Kartei 2

# Von der Einheit zur Mehrheit

## LÖSUNG

1. 33 €
2. 10 € 20 ct
3. 73 € 80 ct
4. 5 € 60 ct



## Kartei 3

# Von der Einheit zur Mehrheit

## LÖSUNG

1. 9 € 10 ct
2. 45 € 60 ct
3. 3 € 50 ct
4. 3 €





## Kartei 4

# Von der Einheit zur Mehrheit

## LÖSUNG

1. 8 € 10 ct
2. 1 € 80 ct
3. 3 € 60 ct
4. 38 €




## Kartei 5

# Von der Einheit zur Mehrheit

## LÖSUNG

1. 6 € 75 ct
2. 4 € 80 ct
3. 9 €
4. 19 € 20 ct



## Kartei 6

# Von der Mehrheit zur Einheit

## LÖSUNG

1. 82 €
2. 2 € 60 ct
3. 45 ct
4. 4 €



## Kartei 7

# Von der Mehrheit zur Einheit

## LÖSUNG

1. 5 € 70 ct
2. 56 ct
3. 33 ct
4. 35 ct




Kartei 8

## Von der Mehrheit zur Einheit

**LÖSUNG**

1. 1 € 60 ct
2. 30 ct
3. 80 ct
4. 1 € 99 ct



Kartei 9

## Von der Mehrheit zur Einheit

**LÖSUNG**

1. 23 € 99 ct
2. 2 € 50 ct
3. 89 ct
4. 1 € 99 ct



Kartei 10

## Vom Ganzen zum Teil

**LÖSUNG**

1. 1 € 50 ct
2. 2 € 10 ct
3. 5 € 10 ct
4. 70 ct



Kartei 11

## Vom Ganzen zum Teil

**LÖSUNG**

1. 12 ct
2. 7 €
3. 20 ct
4. 2 € 50 ct

