

Name: \_\_\_\_\_



Zähle weiter!

465 \_\_\_\_\_

734 \_\_\_\_\_

325 \_\_\_\_\_

921 \_\_\_\_\_

524 \_\_\_\_\_

821 \_\_\_\_\_

439 \_\_\_\_\_

218 \_\_\_\_\_

Zähle im Heft von ... bis ....!

459 → 467

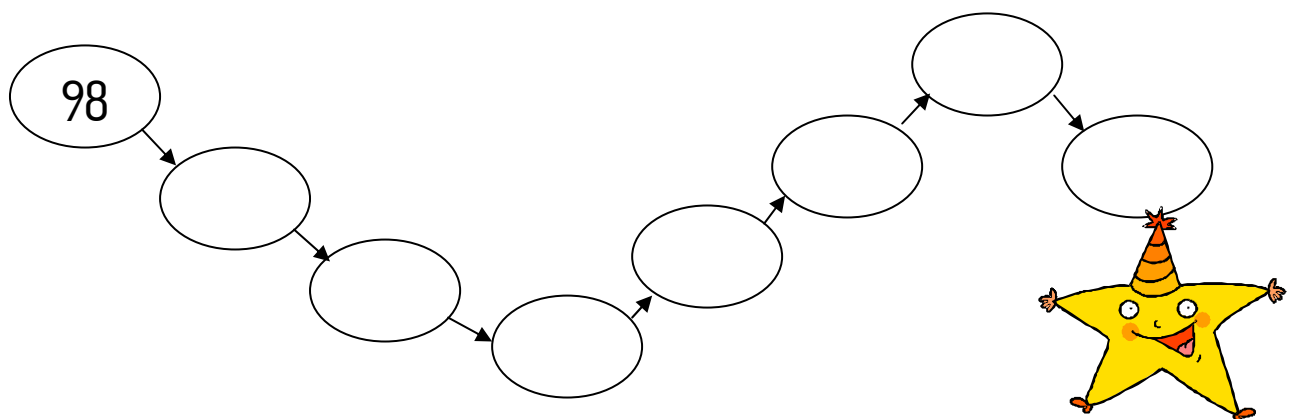
278 → 287

398 → 407

597 → 609

600 → 610

768 → 777



Name: \_\_\_\_\_

Zähle zurück!

_____	_____	_____	_____	_____	_____	_____	_____	_____	_____	543
_____	_____	_____	_____	_____	_____	_____	_____	_____	_____	782
_____	_____	_____	_____	_____	_____	_____	_____	_____	_____	821
_____	_____	_____	_____	_____	_____	_____	_____	_____	_____	503
_____	_____	_____	_____	_____	_____	_____	_____	_____	_____	910
_____	_____	_____	_____	_____	_____	_____	_____	_____	_____	402
_____	_____	_____	_____	_____	_____	_____	_____	_____	_____	953
_____	_____	_____	_____	_____	_____	_____	_____	_____	_____	756

Zähle im Heft von ... bis ...!

679 → 667

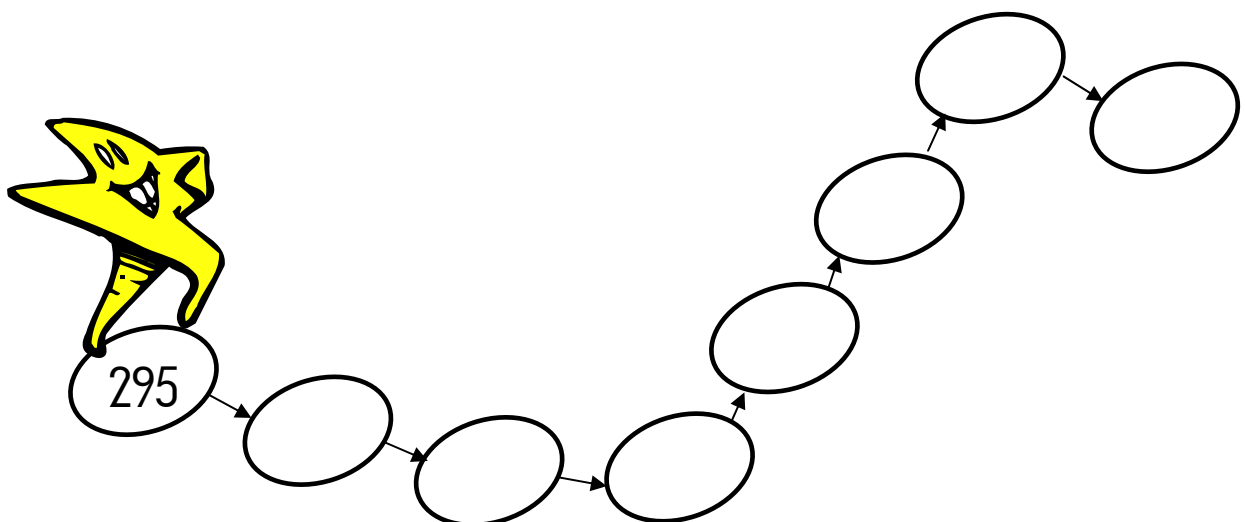
879 → 869

210 → 199

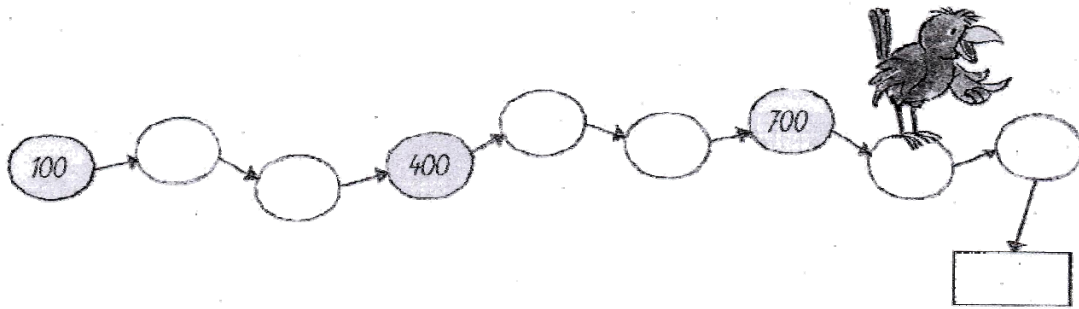
502 → 493

300 → 290

498 → 489



Name: \_\_\_\_\_



a) Schreib die Zahlen auf!

dreihundert: \_\_\_\_\_

fünfhundert: \_\_\_\_\_

achthundert: \_\_\_\_\_

vierhundert: \_\_\_\_\_

zweihundert: \_\_\_\_\_

sechshundert: \_\_\_\_\_

neunhundert: \_\_\_\_\_

siebenhundert: \_\_\_\_\_

b) Schreib die Hunderternachbarn auf!

\_\_\_\_\_ 400 \_\_\_\_\_

\_\_\_\_\_ 600 \_\_\_\_\_

\_\_\_\_\_ 500 \_\_\_\_\_

\_\_\_\_\_ 900 \_\_\_\_\_

\_\_\_\_\_ 200 \_\_\_\_\_

\_\_\_\_\_ 700 \_\_\_\_\_

\_\_\_\_\_ 800 \_\_\_\_\_

\_\_\_\_\_ 300 \_\_\_\_\_

Lege und rechne:

$300 + 30 + 2 =$ _____	$500 + 70 + 3 =$ _____	$200 + 40 + 1 =$ _____
$400 + 50 + 3 =$ _____	$700 + 20 + 9 =$ _____	$300 + 50 + 6 =$ _____
$600 + 70 + 7 =$ _____	$400 + 40 + 4 =$ _____	$100 + 40 + 9 =$ _____
$900 + 10 + 7 =$ _____	$800 + 20 + 8 =$ _____	$600 + 70 + 2 =$ _____

Zähle weiter!

675 \_\_\_\_\_

394 \_\_\_\_\_

465 \_\_\_\_\_

879 \_\_\_\_\_

213 \_\_\_\_\_

Name: \_\_\_\_\_

Zähle zurück!

_____	_____	_____	_____	_____	_____	_____	_____	_____	632
_____	_____	_____	_____	_____	_____	_____	_____	_____	705
_____	_____	_____	_____	_____	_____	_____	_____	_____	497
_____	_____	_____	_____	_____	_____	_____	_____	_____	329
_____	_____	_____	_____	_____	_____	_____	_____	_____	606
_____	_____	_____	_____	_____	_____	_____	_____	_____	1000

Schreibe die benachbarten reinen Hunderterzahlen auf!

	← 575 →	
	← 458 →	
	← 457 →	
	← 987 →	
	← 567 →	
	← 325 →	
	← 771 →	

	← 245 →	
	← 135 →	
	← 897 →	
	← 895 →	
	← 743 →	
	← 246 →	
	← 429 →	

Name: \_\_\_\_\_

Schreibe die benachbarten reinen Zehnerzahlen auf!

	← 135 →	
	← 897 →	
	← 957 →	
	← 458 →	
	← 235 →	
	← 784 →	
	← 251 →	

	← 658 →	
	← 354 →	
	← 865 →	
	← 785 →	
	← 421 →	
	← 256 →	
	← 9482 →	

Trage die benachbarten Zahlen ein!

	← 358 →	
	← 876 →	
	← 359 →	
	← 241 →	
	← 135 →	
	← 867 →	
	← 456 →	
	← 199 →	

	← 287 →	
	← 864 →	
	← 335 →	
	← 345 →	
	← 145 →	
	← 687 →	
	← 959 →	
	← 401 →	