

Welche Zahlen verstecken sich hier?

1	■						■		
		■				■		■	
■			■		■				■
	■			■			■		40

Wie heißen ihre Nachbarn?
Schreibe sie so in dein Heft: 1 – 2 – 3



Lösung:

	2						8		
		13				17		19	
21			24		26				30
	32			35			38		



Welche Zahlen verstecken sich hier?

1		■					■		
■				■					■
	■					■			
			■		■			■	40

Wie heißen ihre Nachbarn?
Schreibe sie in dein Heft.



Lösung:

		3					8		
11				15					20
	22					27			
			34		36			39	

Welche Zahlen verstecken sich hier?



1									
									40


Wie heißen ihre Nachbarn?
Schreibe sie in dein Heft.

Lösung:



				5					10
11		13				17			
	22						28		
31			34		36			39	


Welche Zahlen verstecken sich hier?




1	■				■		■		
■			■						■
■				■			■	■	
		■				■			40

Wie heißen ihre Nachbarn?
Schreibe sie in dein Heft.

Lösung:




	2				6		8		
11			14						20
21				25			28	29	
		33				37			



Welche Zahlen verstecken sich hier?

1			■		■		■		
	■					■		■	
■				■					■
		■			■		■		40

Wie heißen ihre Nachbarn?
Schreibe sie in dein Heft.



Lösung:

			4		6		8		
	12					17		19	
21				25					30
		33			36		38		

Welche Zahlen verstecken sich hier?



1		■				■			■
			■		■				■
	■						■		
■		■		■		■			40

Wie heißen ihre Nachbarn?
Schreibe sie in dein Heft.

Lösung:



		3				7			10
			14		16				20
	22						28		
31		33		35		37			



Welche Zahlen verstecken sich hier?


1									
									40

Wie heißen ihre Nachbarn?
Schreibe sie in dein Heft.



Lösung:

		3			6				10
			14					19	
21				25			28		30
		33				37			



Welche Zahlen verstecken sich hier?

1		■			■		■		
				■					■
■		■				■			■
			■		■			■	40

Wie heißen ihre Nachbarn?
Schreibe sie in dein Heft.



Lösung:

		3			6		8		
				15					20
21		23				27			30
			34		36			39	