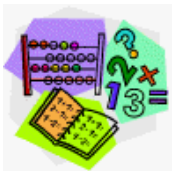



Orientieren im Zahlenraum 100 000



Orientierung im Zahlenraum bis 100 000

1

Suche den kleineren und größeren **Zehntausendernachbarn**!

_____ 60 000 _____

_____ 80 000 _____

_____ 30 000 _____

_____ 50 000 _____

_____ 90 000 _____


_____ 20 000 _____

_____ 70 000 _____

_____ 10 000 _____

_____ 40 000 _____

_____ 60 000 _____



Orientierung im Zahlenraum bis 100 000

Zwischen welchen reinen **Zehntausender** - Zahlen liegen

folgende Zahlen?

10 000 12 000 20 000

_____ 45 000 _____

_____ 57 000 _____

_____ 79 000 _____

_____ 76 000 _____

_____ 84 000 _____

_____ 23 000 _____

_____ 92 000 _____

_____ 39 000 _____

_____ 65 000 _____



Orientierung im Zahlenraum bis 100 000

Zähl in **Hunderter** - Schritten weiter!

24 000 24 100 _____

56 000 _____

79 000 _____

35 400 _____

63 700 _____



Orientierung im Zahlenraum bis 100 000

4

Suche die **Zehner**nachbarn!

_____ 34 5**6**0 _____

_____ 78 9**5**0 _____

_____ 23 8**9**0 _____

_____ 96 4**1**0 _____

_____ 12 9**8**0 _____

_____ 55 8**4**0 _____

_____ 99 9**3**0 _____

_____ 46 3**3**0 _____

_____ 52 2**6**0 _____

_____ 63 7**7**0 _____



Orientierung im Zahlenraum bis 100 000

5

Zähle in **Einers**schritten weiter!

45 671 45 672 _____

76 832 _____

37 345 _____

85 436 _____

94 768 _____