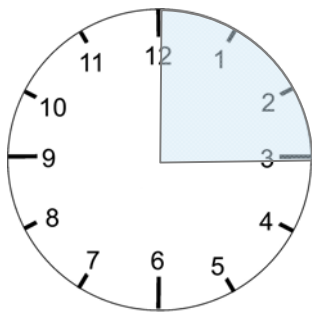
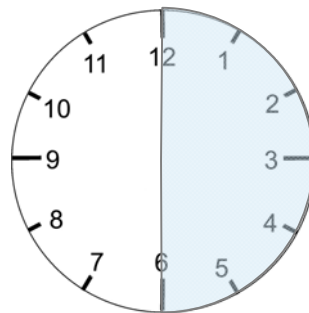


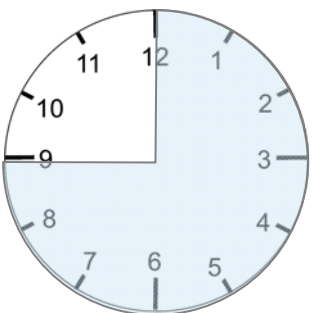
Viertelstunde - halbe Stunde - Dreiviertelstunde - ganze Stunde



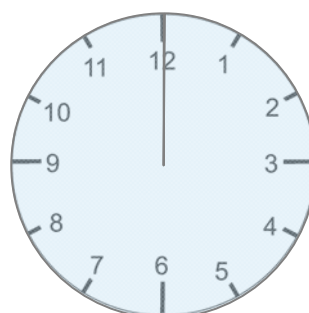
Eine
Viertelstunde
hat 15
Minuten.



Eine
halbe Stunde
hat 30
Minuten.

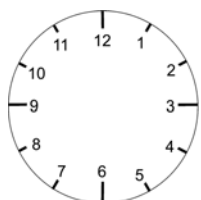


Eine
Dreiviertelstunde
hat 45
Minuten.

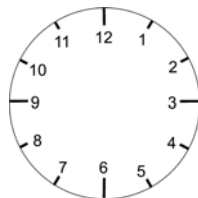


Eine
ganze Stunde
hat 60
Minuten.

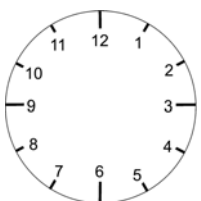
- **Trage die Uhrzeit ein und schreibe darunter, wie man die Zeit ansagt.**



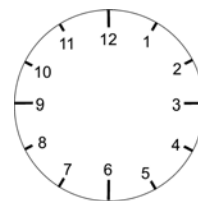
3:45 Uhr
„Es ist viertel vor
vier.“



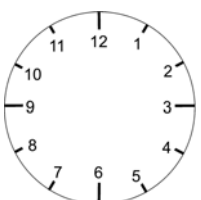
_____ Uhr
„Es ist _____
_____.“



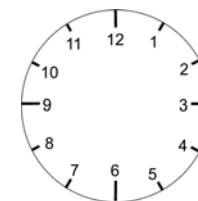
_____ Uhr
„Es ist _____
_____.“



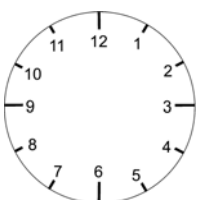
_____ Uhr
„Es ist _____
_____.“



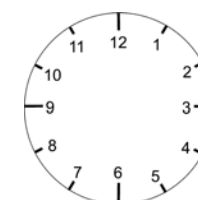
_____ Uhr
„Es ist _____
_____.“



_____ Uhr
„Es ist _____
_____.“



_____ Uhr
„Es ist _____
_____.“



_____ Uhr
„Es ist _____
_____.“