

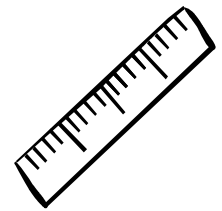
1. Längenmaße:a. Wandle in die nächst kleinere Einheit um.

53 m = _____

78 cm = _____

12 dm = _____

12 km = _____

b. Wandle in die nächst größere Einheit um.

170 dm = _____

450 mm = _____

80 cm = _____

3 000 m = _____

2. Masseangaben:a. Wandle in die nächst kleinere Einheit um.

86 dag = _____

24 kg = _____

5 t = _____

35 t = _____

3. Flächenmaße:a. Wandle in die nächst kleinere Einheit um.

7 m² = _____



32 ha = _____

14 dm² = _____

64 cm² = _____

95 a = _____

70 km² = _____

4. Dividiere:

9 252 : 36 =

859 212 : 87 =

Du hast von 20 Aufgaben _____ Aufgaben richtig.