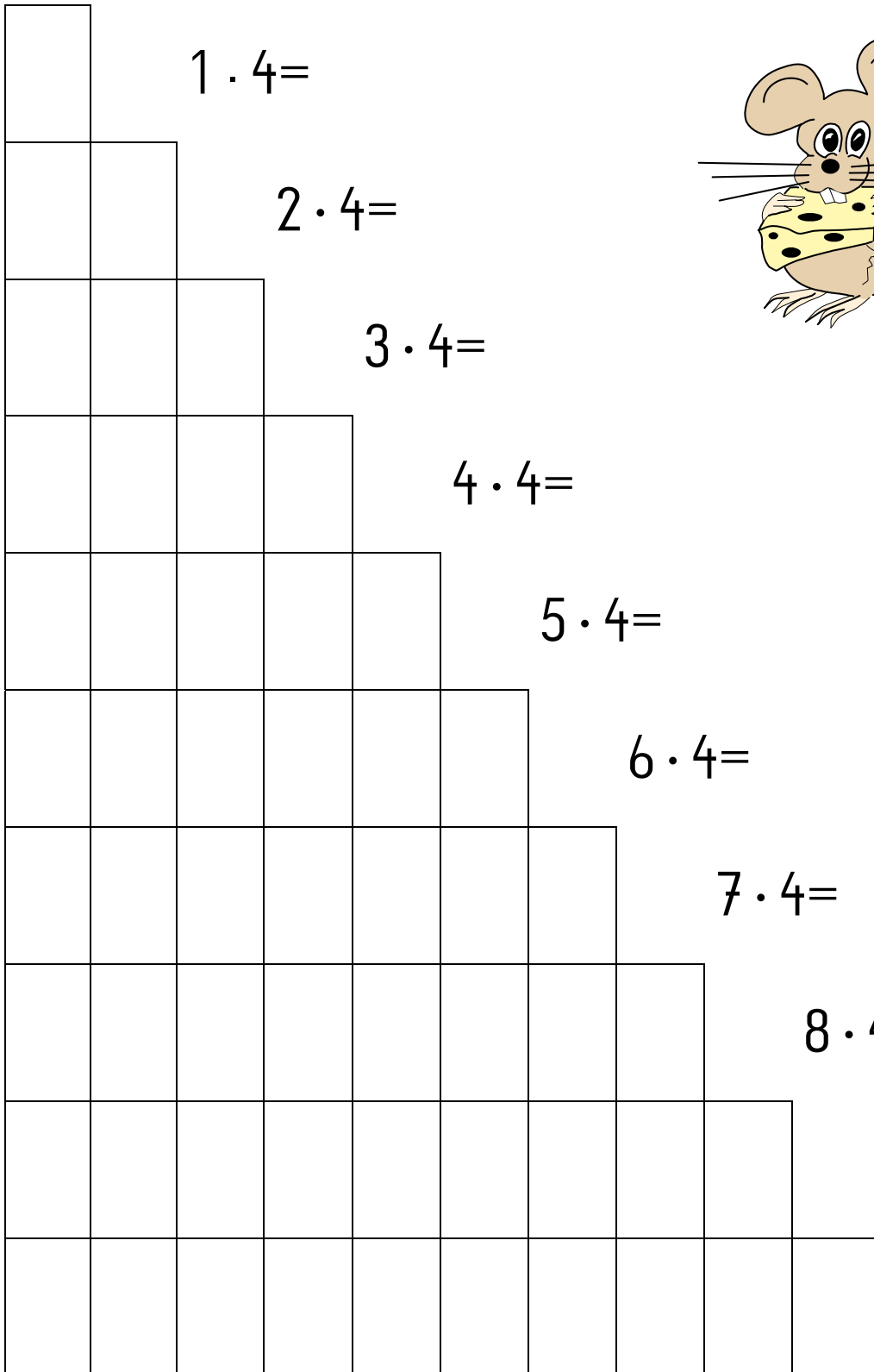


## Die 4 er Reihe

Male 4 Punkte in jedes Kästchen und löse das Malsätzchen!



1 · 4 =

2 · 4 =

3 · 4 =

4 · 4 =

5 · 4 =


6 · 4 =

7 · 4 =

8 · 4 =


9 · 4 =

10 · 4 =



## Die 4 er Reihe

Male die Punkte und rechne das Malsätzchen aus!



										$10 \cdot 4 =$
										$8 \cdot 4 =$
										$2 \cdot 4 =$
										$4 \cdot 4 =$
										$1 \cdot 4 =$
										$5 \cdot 4 =$
										$9 \cdot 4 =$
										$7 \cdot 4 =$
										$3 \cdot 4 =$
										$6 \cdot 4 =$

## Die 4 er Reihe

$1 \cdot 4 = \underline{\quad}$

$10 \cdot 4 = \underline{\quad}$

$8 \cdot 4 = \underline{\quad}$

$2 \cdot 4 = \underline{\quad}$

$9 \cdot 4 = \underline{\quad}$

$1 \cdot 4 = \underline{\quad}$

$3 \cdot 4 = \underline{\quad}$

$8 \cdot 4 = \underline{\quad}$

$6 \cdot 4 = \underline{\quad}$

$4 \cdot 4 = \underline{\quad}$

$7 \cdot 4 = \underline{\quad}$

$3 \cdot 4 = \underline{\quad}$

$5 \cdot 4 = \underline{\quad}$

$6 \cdot 4 = \underline{\quad}$

$9 \cdot 4 = \underline{\quad}$

$6 \cdot 4 = \underline{\quad}$

$5 \cdot 4 = \underline{\quad}$

$2 \cdot 4 = \underline{\quad}$

$7 \cdot 4 = \underline{\quad}$

$4 \cdot 4 = \underline{\quad}$

$10 \cdot 4 = \underline{\quad}$

$8 \cdot 4 = \underline{\quad}$

$3 \cdot 4 = \underline{\quad}$

$5 \cdot 4 = \underline{\quad}$

$9 \cdot 4 = \underline{\quad}$

$2 \cdot 4 = \underline{\quad}$

$4 \cdot 4 = \underline{\quad}$

$10 \cdot 4 = \underline{\quad}$

$1 \cdot 4 = \underline{\quad}$

$7 \cdot 4 = \underline{\quad}$



**BRAVO!**