


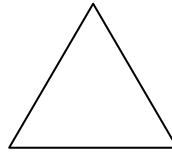
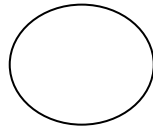
Geometrie - Quiz

1. Benenne die Körper richtig!



1. _____ 4. _____ 7. _____ 10. _____
2. _____ 5. _____ 8. _____
3. _____ 6. _____ 9. _____

2. Benenne die Flächen richtig!



3. Zähle die Kanten und Ecken der Körper!



__Kanten
__Ecken



__Kanten
__Ecken



__Kanten
__Ecken

4. Welche Körper können nur rollen?

Welche Körper haben eine Spitze?
