

Berechne **Umfang** und **Flächeninhalt** folgender Frühlingsbilder!

- Überlege zuerst, ob du ein Rechteck oder ein Quadrat siehst!  
Die entsprechenden Formeln hast du ja gelernt. ;-)
- Kennst du eigentlich die Namen all dieser Pflanzen?

1.



$$l = 87 \text{ cm}$$

$$b = 43 \text{ cm}$$


2.



$$l = 1 \text{ m}$$

$$b = 50 \text{ cm}$$

3.



$$l = 70 \text{ cm}$$


$$b = 38 \text{ cm}$$

4.



$s = 47 \text{ cm}$

5.



$l = 3 \text{ cm}$

$b = 9 \text{ cm}$

6.



$s = 36 \text{ cm}$

7.



$l = 101 \text{ cm}$

$b = 69 \text{ cm}$

8.



$s = 67 \text{ cm}$

9.



$l = 70 \text{ cm}$


$b = 38 \text{ cm}$

10.



$s = 88 \text{ cm}$

11.



$l = 45 \text{ cm}$

$b = 90 \text{ cm}$