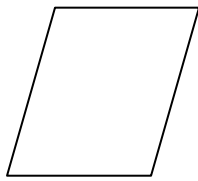
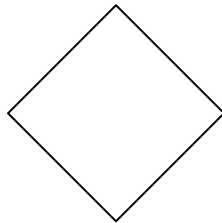


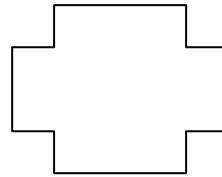
Bemale die Fläche rot, den Umfang blau!



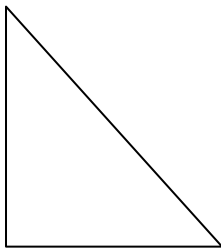
Umfang



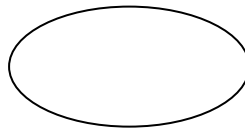
Fläche



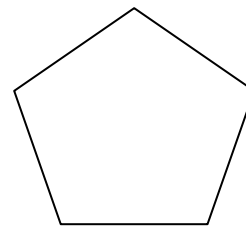
Umfang



Umfang



Fläche



Fläche

- Unterstreiche die Sätze, in denen es um eine Fläche geht!

Auf den Fußboden werden neue Fliesen gelegt.

Eine quadratische Wiese wird eingezäunt.

Ein Zeichenblatt wird mit blauer Farbe bemalt.

Mutti wischt den Tisch ab.

Auf die Ladefläche eines Lastautos werden Kisten verladen.

Hans läuft drei Runden um den Sportplatz.

Ein Kinderzimmer wird mit einem neuen Teppichboden ausgelegt.

Das Flugzeug landet sicher auf der Landebahn.

Der Unterricht dauert vier Stunden.



Fläche

- Umfahre deine Hand mit einem blauen Buntstift!
- Bemale die Fläche deiner Hand mit einem roten Buntstift!



- Wie viele Handflächen ist die Sitzfläche deines Sessels groß?

---

- Wie viele Handflächen groß ist dein Mathematikbuch?

---

- Miss die Flächen dreier weiteren Gegenstände mit deiner Handfläche!

Was hast du abgemessen? Wie viele Handflächen groß ist der Gegenstand?

---

Was hast du abgemessen? Wie viele Handflächen groß ist der Gegenstand?

---

Was hast du abgemessen? Wie viele Handflächen groß ist der Gegenstand?

---

- Zeichne die Flächenteile rot ein!

Überlege:

Ist die gesamte Fläche bedeckt oder entstehen  
Zwischenräume?

Bemale die Zwischenräume gelb!

