


Sparschweinchen-Parade (B)

Finde heraus, welches Sparschwein wem gehört!





Male es in der richtigen Farbe an, schreibe den richtigen Namen darunter und schreibe den gesparten Betrag als Kommazahl über das Schweinchen!



- Max hat bereits 5 € und 43 c in seinem hellblauem Sparschwein, das gleich neben dem hellgrünen Sparschwein von seiner Schwester steht, gespart. Von seinem Großvater bekommt er 4 € zugesteckt. Max steckt die Münzen in das 2. Sparschwein von rechts. Wie viel Geld hat er nun?
- Seine kleine Schwester Karola bekam in der letzten Woche jeden Tag 40 c von ihrer Mutter.
- Daniel ist ein großer Sparmeister. Er putzt jeden Sonntag alle Schuhe der Familie und bekommt dafür Taschengeld. Im ersten Sparschwein sind schon 888 c.
- Mama und Papa haben gemeinsam ein rotes Sparschwein. Da stecken die beiden alle kleinen Cent-Münzen hinein, die sie in ihren Geldbörsen finden.
Mama hat schon 25 1-Cent-Münzen hineingeworfen.
Papa warf 9 1-Cent-Münzen und 12 2-Cent-Münzen hinein.
Ihr Sparschwein steht gleich neben Daniels gelben Schweinchen.

Name: _____

LÖSUNG

| | | | |
|---|---|---|---|
|  |  |  |  |
| Daniel | Mama + Papa | Max | Karola |