




2 in 6 ist _____ mal enthalten.




2 in 16 ist _____ mal enthalten.




2 in 14 ist _____ mal enthalten.




2 in 10 ist _____ mal enthalten.




4 in 8 ist _____ mal enthalten.



4 in 16 ist _____ mal enthalten.



4 in 40 ist _____ mal enthalten.



4 in 32 ist _____ mal enthalten.

2 in 20 ist _____ mal enthalten.

4 in 36 ist _____ mal enthalten.

2 in 8 ist _____ mal enthalten.

4 in 24 ist _____ mal enthalten.

2 in 16 ist _____ mal enthalten.

4 in 20 ist _____ mal enthalten.

$20 : 2 =$ _____

$16 : 4 =$ _____

$12 : 2 =$ _____

$32 : 4 =$ _____

$10 : 2 =$ _____

$20 : 4 =$ _____

$16 : 2 =$ _____

$28 : 4 =$ _____

$8 : 2 =$ _____

$36 : 4 =$ _____