















Datum:

Name:

Wie viele Beine ???

	Ein Vogel hat 2 Beine.
	Zwei Vögel haben __ Beine.
	Drei Vögel haben __ Beine.
	Vier Vögel haben __ Beine.
	Fünf Vögel haben __ Beine.
	Ein Schaf hat __ Beine.
	Zwei Schafe haben __ Beine.
	Drei Schafe haben __ Beine.
	Vier Schafe haben __ Beine.
	Fünf Schafe haben __ Beine.
	Sie haben __ Beine.
	Sie haben __ Beine.
	Wie viele Beine hat ein Wal? __
	Wie viele Beine haben 2 Wale? __