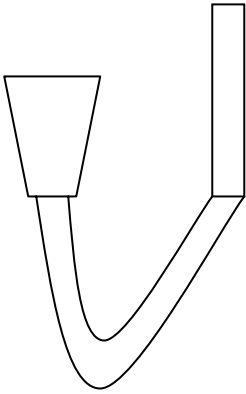


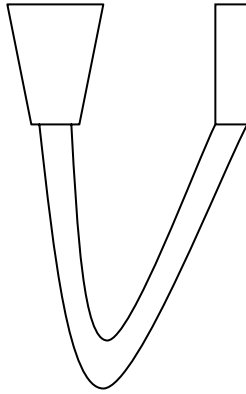
1. Was passiert mit dem Wasser bei A, B und C?

Male blau an!

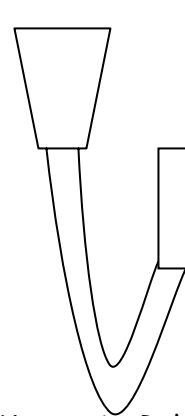
A



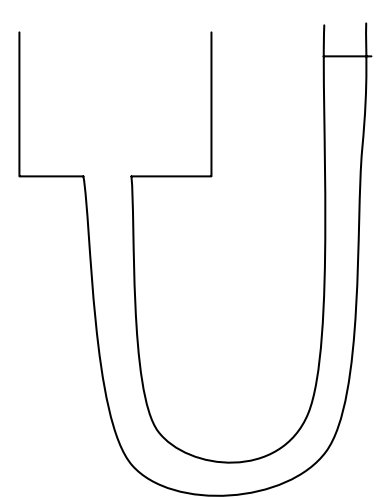
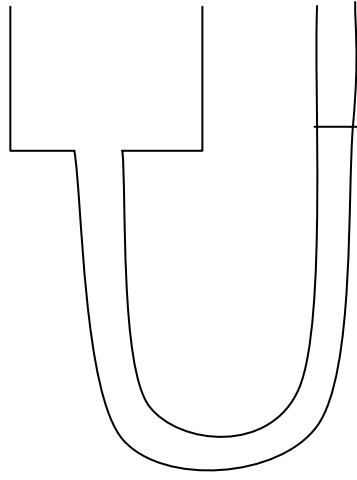
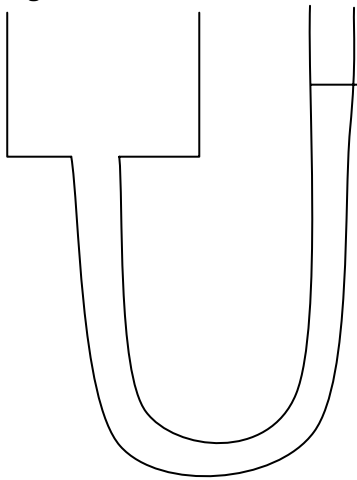
B



C



2. Wie hoch muss das Wasser in den Behältern stehen, damit das Wasser im Rohr bis zur gekennzeichneten Stelle steigt! Male blau an!



3. Zeichne den Wasserstand in den Behältern so ein, dass das Wasser bis zum ersten (vierten) Stockwerk steigen kann!

