

Rechengeschichten

gelb

1. Male und schreibe die Rechnung dazu.

Niko hat 11 Fußball-Karten gesammelt. Er schenkt Uwe 3.

Rechnung:

Anna hat schon 8 Tierkarten. Ute schenkt ihr noch 5.

Rechnung:

2. Finde die passende Rechnung. Verbinde.

Mona 8 bunte Murmeln. Sie gewinnt noch 7 dazu.

$8 + 7 = \underline{\quad}$


Andi hat 13 blaue Murmeln. Er verliert 7.

$13 - 8 = \underline{\quad}$

Jan hat 13 bunte Murmeln. Er spielt mit Maria und muss ihr 8 Murmeln geben.

$13 - 7 = \underline{\quad}$

3. Schreibe eine Geschichte und rechne.



Rechnung:

Rechengeschichten

grün

1. Male und schreibe die Rechnung dazu.

Niko hat 7 Fußball-Karten.
Er schenkt Uwe 2.

Rechnung:

Anna hat 5 Tier-Karten.
Ute schenkt ihr noch 3.

Rechnung:

2. Finde die passende Rechnung. Verbinde.


Mona 8 bunte Murmeln. Sie gewinnt noch 7 dazu.

$8 + 7 = \underline{\quad}$

Andi hat 13 blaue Murmeln. Er verliert 7.

$13 - 7 = \underline{\quad}$

3. Schreibe die Rechnung auf. Male selbst.



Rechengeschichten

rot

1. Male und schreibe die Rechnung dazu.

Niko hat 16 Fußball-Karten gesammelt. Er schenkt Uwe die Hälfte.

Rechnung:

Anna hat 16 Tierkarten gesammelt. Ute schenkt ihr noch 5 Hundekarten.

Rechnung:

2. Finde die passende Rechnung. Verbinde.

Mona 9 bunte Murmeln. Sie gewinnt beim Spielen noch 8 dazu.

$9 + 8 = \underline{\quad}$


Andi hat 17 blaue Murmeln. Er verliert bei Spielen 9.

$17 - 8 = \underline{\quad}$

Jan hat 17 bunte Murmeln. Er spielt mit Maria und muss ihr 8 Murmeln geben.

$17 - 9 = \underline{\quad}$

3. Schreibe eine Geschichte und rechne.



Rechnung: _____