



Name: _____

abrunden



auf abrunden



0, 1, 2, 3, 4

5, 6, 7, 8, 9



1. Runde auf Zehner! Beachte die Einerstelle!

81	_____	47	_____	92	_____	61	_____
46	_____	99	_____	16	_____	55	_____
46	_____	64	_____	11	_____	9	_____
73	_____	37	_____	18	_____	29	_____
61	_____	74	_____	22	_____	91	_____
21	_____	12	_____	35	_____	53	_____
86	_____	68	_____	24	_____	42	_____
56	_____	65	_____	27	_____	72	_____

2. Runde auf Hunderter! Beachte die Zehnerstelle!


213	_____	451	_____	328	_____
914	_____	691	_____	901	_____
810	_____	472	_____	710	_____
871	_____	218	_____	369	_____
852	_____	543	_____	872	_____
981	_____	534	_____	642	_____
523	_____	582	_____	951	_____
741	_____	248	_____	346	_____
564	_____	219	_____	654	_____
429	_____	482	_____	375	_____
258	_____	246	_____	903	_____

Runde auf oder ab! Schreibe das Zeichen \approx !

1. Runde auf Zehner! Der Einer sagt, ob du auf- oder abrunden sollst!

54	_____	39	_____	56	_____	43	_____
81	_____	93	_____	42	_____	19	_____
36	_____	67	_____	89	_____	27	_____
13	_____	31	_____	98	_____	72	_____
45	_____	65	_____	24	_____	88	_____
52	_____	28	_____	85	_____	25	_____
82	_____	58	_____	91	_____	75	_____

2. Runde auf Hunderter! Der Zehner sagt, ob du auf- oder abrunden musst!



459	_____	945	_____	594	_____
751	_____	175	_____	157	_____
246	_____	426	_____	642	_____
381	_____	813	_____	183	_____
509	_____	905	_____	950	_____
736	_____	367	_____	637	_____
214	_____	421	_____	142	_____
310	_____	103	_____	301	_____
435	_____	354	_____	534	_____
692	_____	962	_____	269	_____

