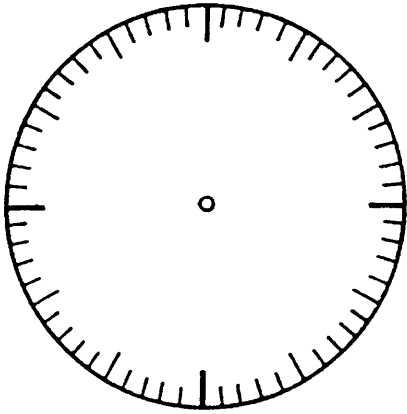


Stunden und Minuten

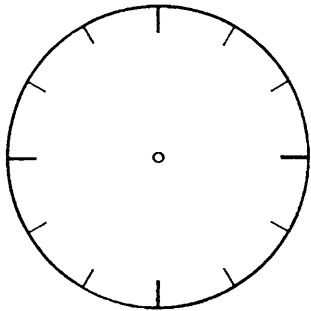
Zähle alle Striche an der Uhr. Wie viele sind es?



Ein Strich bedeutet eine Minute.

Eine Stunde hat ___ Minuten.

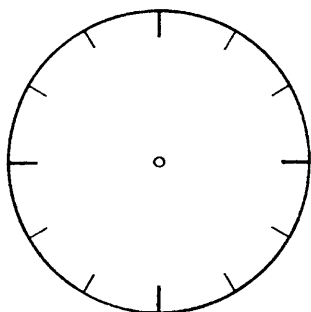
1 Std. = ___ Min.



Zeichne eine halbe Stunde ein:

Eine halbe Stunde hat ___ Minuten

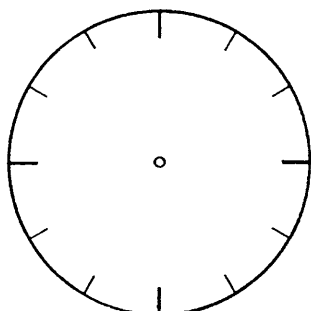
$\frac{1}{2}$ Std. = ___ Min.



Zeichne eine Viertelstunde ein:

Eine Viertelstunde hat ___ Minuten

$\frac{1}{4}$ Std. = ___ Min.



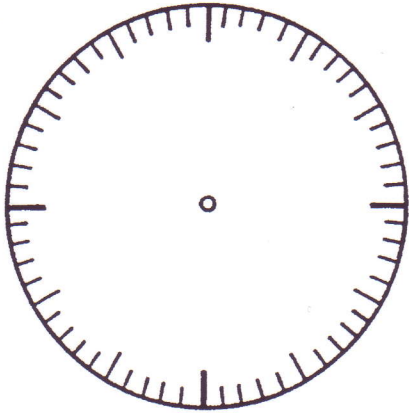
Zeichne eine Dreiviertelstunde ein:

Eine Dreiviertelstunde hat ___ Minuten

$\frac{3}{4}$ Std. = ___ Min.

Stunden und Minuten


Zähle alle Striche an der Uhr. Wie viele sind es?



Ein Strich bedeutet eine Minute.

Eine Stunde hat 60 Minuten.


1 Std. = 60 Min.



Zeichne eine halbe Stunde ein:

Eine halbe Stunde hat 30 Minuten

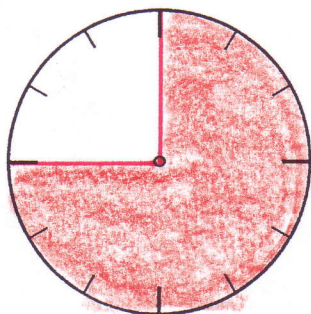
$\frac{1}{2}$ Std. = 30 Min.



Zeichne eine Viertelstunde ein:

Eine Viertelstunde hat 15 Minuten

$\frac{1}{4}$ Std. = 15 Min.



Zeichne eine Dreiviertelstunde ein:

Eine Dreiviertelstunde hat 45 Minuten

$\frac{3}{4}$ Std. = 45 Min.