


Das Quadrat und das Rechteck


Miss die Seiten dieser Quadrate und Rechtecke ab !




Die Länge ist _____ cm lang.
Die Breite ist _____ cm lang



Die Länge ist _____ cm lang.
Die Breite ist _____ cm lang.




Jede Seite ist _____ cm lang.



Jede Seite ist _____ cm lang.

Zeichne Rechtecke und Quadrate !

Die Seite ist 3 cm lang.



Die Länge ist 4 cm lang.
Die Breite ist 3 cm lang.

