

# Rechnen mit dem Löwen im Zahlenraum 30



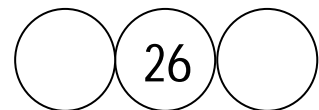
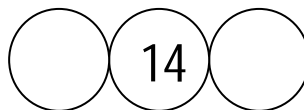
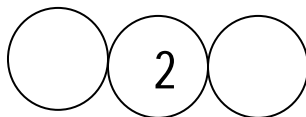
1) Hilf dem Löwen und setze die Zahlen 5, 8, 12, 17, 19, 21, 26, 30 !  
Schreib die Zehner der eingesetzten Zahlen rot oder gold! 14P.

		3				7			10
11				15					
			24					29	

2) Diese Zahlenschlange frisst die Zahlen! Setze die fehlenden ein! 8P.

:-)								27	28
-----	--	--	--	--	--	--	--	----	----

3) Finde die Nachbarzahlen! 6P.



4) Ordne diese Zahlen der Größe nach!



Beginne mit der kleinsten Zahl!

6P.

27, 21, 25, 29, 23, 28

\_\_\_\_\_

5) Ordne diese Zahlen der Größe nach!



Beginne mit der größten Zahl!

6P.

24, 30, 22, 25, 20, 29

\_\_\_\_\_

## Rechnen mit dem Löwen im Zahlenraum 30



6) Nun wird aber endlich gerechnet! Der Löwe wartet schon! 6P.

$20 + 4 = \underline{\quad}$

$22 - 2 = \underline{\quad}$

$25 = 20 + 5$

$20 + \underline{\quad} = 29$

$24 - \underline{\quad} = 20$

$27 = \underline{\quad}$

7) Zwergaufgaben und Riesenaufgaben für den Löwen!

14 P.



$7 + 2 = \underline{\quad}$



$6 - 2 = \underline{\quad}$



$17 + 2 = \underline{\quad}$



$16 - 2 = \underline{\quad}$

$27 + 2 = \underline{\quad}$

$26 - 2 = \underline{\quad}$



$4 + 6 = \underline{\quad}$

$10 - 5 = \underline{\quad}$



$\underline{\hspace{2cm}}$

$20 - 5 = \underline{\quad}$

$\underline{\hspace{2cm}}$

$30 - 5 = \underline{\quad}$

8) Das große Löwenfinale startet jetzt!

14 P.

$21 + 9 = \underline{\quad}$

$24 + 3 = \underline{\quad}$

$23 + \underline{\quad} = 25$

$25 - \underline{\quad} = 21$

$30 + 0 = \underline{\quad}$

$25 - 2 = \underline{\quad}$

$26 - 3 = \underline{\quad}$

$22 + 7 = \underline{\quad}$

$25 + \underline{\quad} = 30$

$30 - 8 = \underline{\quad}$

$30 - 4 = \underline{\quad}$

$20 + 10 - 6 = \underline{\quad}$

$20 - 6 + 2 = \underline{\quad}$

$22 + 5 - 7 = \underline{\quad}$



Löwenanteil für dich, sehr gut 😊 Du kannst schon viele Aufgaben gut 😊  
Du hast gut gerechnet, übe aber noch 😊 Du musst wirklich noch üben 😊